

Türkçe Soruları

1. Son yıllarda Avrupa ve Amerika'da oldukça popüler bir ürün hâline gelen, ülkemizde de Hatay ve Mersin yöresinde yapılan "humus" yemeğinin yapım aşamaları aşağıda karışık hâlde verilmiştir.
- Haşlanan nohutların kabuklarını tek tek ayıklayın ki hazırlama aşamasında kıvamı daha pürüzsüz olsun.
 - Servis tabağına aldığınız ve yaydığınız humusu çeşitli baharatlarla lezzetlendirin.
 - Nohutları üzerini geçecek kadar suda yumuşayana ve nohutların kabukları çatlayana kadar haşlayın.
 - Tahta kaşıkla nohutları ezin; üzerine tahin, sarımsak, taze sıkılmış limon suyu, su ve tuz ekleyerek karıştırın.
 - Servise sunulmadan önce üzerine zeytinyağı gezdirerek sunumu tamamlayın.

Numaralanmış cümlelerden hangisi baştan üçüncü sırada yer almalıdır?

- A) I. B) II. C) III. D) IV.

2. Çanakkale Zaferi'nde ilk taarruzu gerçekleştiren "Nusret" adlı mayın gemisidir. Nusret, hüznü dalgaları yara yara ilerleyip zafere giden yolu açmıştır.

Altı çizili cümlede aşağıdaki söz sanatlarından hangisi kullanılmıştır?

- İnsan dışındaki varlıklar, insan gibi konuşturulduğu sanat için konuşturma.
- Aralarında ilgi bulunan iki şeyden zayıf olan, güçlü olana benzetildiği için benzetme.
- İnsan dışındaki varlıklara, insana özgü nitelikler aktarıldığı için kişileştirme.
- Bir varlık, olduğundan çok büyük anlatıldığı için abartma.

3. Yeni kasa alan Gökhan Bey şifre belirlemek istemektedir. Şifreyi belirlerken uyması gereken kurallar şunlardır:
- Şifre en az 8 haneli olmalıdır.
 - Şifrede hem harf hem rakam hem karakter (=, ?, >...) bulunmalıdır.
 - Art arda gelen rakam ve harfler olmamalıdır.
 - Hem büyük hem küçük harf kullanılmalıdır.

Bu kurallara göre aşağıdakilerden hangisi bu kasanın şifresi olabilir?

- A) Mu89.!cR
- B) 1Kz-20+
- C) De#y5.b3
- D) 85fk*Hn/.



4. Mustafa Kemal, bir anda “Ben size taarruz emretmiyorum, ölmeyi emrediyorum! Biz ölünceye kadar geçecek zaman içinde yerimize başka kuvvetler ve başka komutanlar geçebilir.” dedi. Tarihin en büyük siper savaşı başlamıştı. Siperler arası uzaklık sekiz on metre kadardı. Türk siperlerinden hiçbir asker ayrılmıyordu. Şehit düşenlerin yeri hemen dolduruluyordu. Her adım başına bir mermi düşüyor, toprak âdeta tüterek kaynıyordu. Düşman, dalgalar hâlinde Conkbayır’a doğru ilerliyordu.

Yukarıdaki metin açıklaması verilen düzyazı türlerinden hangisine örnektir?

- A) Deneme: Yazarın herhangi bir konudaki görüşlerini, kanıtlama amacı gütmeyen ortaya koyduğu yazı türüdür.
- B) Anı: Bir kişinin geçmişte yaşadığı ya da şahit olduğu olayları anlattığı yazı türüdür.
- C) Otobiyografi: Bir kimsenin kendi yaşamını anlattığı yazı türüdür.
- D) Söyleşi: Yazarın, düşüncelerini karşılıklı konuşma havası içinde kaleme aldığı yazı türüdür.

5. Ben ezelden beridir hür yaşadım, hür yaşarım.
Hangi çılgın bana zincir vuracakmış? Şaşarım!
Kükremiş sel gibiyim, bendimi çiğner, aşarım.
Yırtarım dağları, enginlere sığmam, taşarım.

	Dörtlükte insana ait bir özellik, insan dışındaki bir varlığa aktarılmıştır.
	Dörtlükte ahengi sağlamak için mısra sonlarında ses benzerliklerine yer verilmiştir.
	Dörtlükte fiilimsi (Fiillere belirli ekler getirilerek oluşturulan ve cümlede isim, sıfat veya zarf görevinde kullanılan sözcük) kullanılmamıştır.
	Dörtlükte aralarında ilgi bulunan iki şeyden zayıf olan, güçlü olana benzetilmiştir

Dörtlük ile ilgili yukarıdaki açıklamalardan doğru olanların başına (D), yanlış olanların başına (Y) getirildiğinde hangi seçenek ortaya çıkar?

A)

D
Y
Y
D

B)

Y
D
Y
D

C)

D
D
Y
Y

D)

Y
Y
D
D

6. 18 Mart Çanakkale Zaferi, Türk milletinin bağımsızlığını ve topraklarını korumak için savaştığı, I. Dünya Savaşı'nın sonucunu etkileyen, dünya tarihinde de önemli bir yere sahip olan savaşların sonucudur.

Yukarıdaki cümleden hangi yargı çıkarılamaz?

- A) Avrupalılar, Türkler karşısında I. Dünya Savaşı'nı kaybetmişlerdir.
B) Çanakkale Savaşı I. Dünya Savaşı'nın seyrini değiştirmiştir.
C) Türk milleti Çanakkale'de bağımsızlığı ve vatani için mücadele etmiştir.
D) Çanakkale savaşı başarıyla sonuçlanmıştır.

7.




Maarif Vekâleti (Millî Eğitim Bakanlığı), Kurtuluş Savaşı'nın başlarında, İstiklal Harbi'nin millî bir ruh içerisinde kazanılması imkânını sağlamak amacıyla 1921'de bir şiir yarışması düzenler. Bu yarışmaya 724 şair eser gönderir. 23 Aralık 1920'de Millî Eğitim Bakanlığı şiirleri inceler ancak içlerinde İstiklal Marşı olabilecek bir eser bulamaz. Bunun üzerine, 5 Şubat 1921'de Maarif Vekili (Millî Eğitim Bakanı) Hamdullah Suphi Tanrısever bir mektupla Mehmet Akif'in İstiklal Marşı Yarışması'na katılmasını ister. Fakat bilinen bir şey daha vardır. O da Mehmet Akif'in, milletin başarılarının para ile övülemeyeceği düşüncesi ile yarışmaya katılmak istememesidir. Maarif Vekilinin ikna etmesiyle Akif yarışmaya katılır. Ve İstiklal Marşı'mız yazılır. İlk olarak 17 Şubat 1921'de Hâkimiyet-i Milliye ve Sebilürreşat'ta yayımlanır. 26 Şubat 1921'de İstiklal Marşı konusu Meclis'e getirilir. Seçimin Meclis Genel Kurulunda yapılması kararlaştırılır. 1 Mart 1921'de İstiklal Marşı Meclis'in ikinci çalışma yılının açılışında okunur ve 12 Mart 1921'de millî marş olarak kabul edilir.

Türkiye Cumhuriyeti'nin bağımsızlığını simgeleyen ve millî marş olarak kabul edilen İstiklal Marşı'nda şair, Kurtuluş Savaşı'nın kazanılacağına olan inancını, Türk askerinin yürekliliğini, Türk milletine güvenini, Türk ulusunun bağımsızlığa düşkünlüğünü, bu yüce milletin dinine ve yurduna bağlılığını dile getirmiştir.

Bu metinden aşağıdakilerden hangisine ulaşılabılır?




- A) İstiklal Marşı, yarışmaya katılan yedi yüz yirmi dört şiir arasından oy birliğiyle seçilmiştir.
- B) Akif, dönemin Başbakanının isteği ve ısrarı ile yarışmaya katılmaya karar vermiştir.
- C) Akif, para karşılığı millî marş yazılmayacağını düşündüğü için yarışmaya katılmamıştır.
- D) İstiklal Marşı, millî marş olduktan sonra Hâkimiyet-i Milliye ve Sebilürreşat'ta yayımlanmıştır.

8.

	- - - - düşüncelerini kitaplaştırınca çevresindekiler tarafından acımasızca eleştirildi. →Özgünlüğü olmayan, değişiklik göstermeyen.
	Sahanın kenarında otururken elindeki kâğıda - - - - çizdiği resimlere bakıp gülümsedi. →Rastgele.
	İşten ayrıldıktan sonra - - - - bir maceraya atılmak için harekete geçti. →Süresi fazla olan.

















Tablodaki cümleler çeşitli simgelerle eşleştirilmiştir. Cümlelerde boş bırakılan yerlere → işareti ile gösterilen anlam özelliğine uygun olarak sözcük getirilecektir.

Buna göre cümlelerdeki boşluklara aşağıdakilerin hangisi getirilmelidir?

- | | | | |
|----|---|---|---|
| |  |  |  |
| A) | Basmakalıp | Gelişigüzel | Özgün |
| B) | Gelişigüzel | Basmakalıp | Uzun soluklu |
| C) | Gelişigüzel | Uzun soluklu | Özgün |
| D) | Basmakalıp | Gelişigüzel | Uzun soluklu |

9. Efe, okul dergisinin "ENLER" köşesini hazırlayacaktır. Öğretmeni, Efe'ye şu başlıklara uyması gerektiğini söyler:
- Dünyanın en büyük mağarası nerededir?
 - Dünyanın en derin gölü nerededir?
 - Dünyanın en kalabalık ülkesi neresidir?
 - Dünyanın en yüksek şelalesi nerededir?

Buna göre Efe, başlık sırasına uygun olarak aşağıdaki görsellerin hangilerini çalışmasına ekleyebilir?

	I	II	II	IV
A)				
B)				
C)				
D)				

10. **+** İlk aklıma gelen soru “Öğretmen, önünü nasıl görüyor?” olmuştu. O küçük kucığına dünyaları sığdırmış, bizim önümüze getirmişti. Hepimiz şaşkın şaşkın bakıyorduk. “Yardım etmeyecek misiniz?” sorusu hepimizi kendimize getirmişti. Küçük köyümüzün 6. sınıfında -ben de dâhil- 10 meraklı öğrenci öğretmenimize doğru hücum ettik.

● İşte o zaman başladı bende kitap sevgisi. Hayatımın dönüm noktası o andı. O kitabı yerden ben kaldırmıştım ama şimdi çok iyi anlıyorum ki iyi bir dost kazanmışım. Şimdi hayatta sendelesen de yanımda sadık dostlarım var. Yani kitaplar. Onlar bana her zaman doğruyu gösteriyor.

□ İtiraf etmeliyim biraz kargaşa oluşturmuştuk. Ama bütün kitapları masaya yerleştirmeyi başardık. Bir kitap masadan aşağıya kaymış, yerde yatıyordu. Öğretmenim de ben de kitabı almak için eğilince kafamız çarpıştı. Ama kitabı ben almıştım. Öğretmen “Madem bu kadar hızlısın, o zaman bu kitabı bir haftaya bitireceksin.” demişti.

◆ Herkesin hayatında dönüm noktaları olmuştur. Benim hayatımın dönüm noktası ise okulumuza atanan Türkçe öğretmeni olmuştu. Dersimize ilk girişini dün gibi hatırlarım. Kucığında kocaman bir kitap yığınıyla kapıdan içeri dalmıştı. Kitaplar o kadar çoktu ki öğretmenin yüzünü göremiyorduk.

“**+**, **●**, **□**, **◆**” sembolleriyle gösterilen parçalar anlamlı bir metin oluşturacak şekilde sıralandığında aşağıdakilerden hangisi doğru olur?

- A) **◆** **●** **+** **□**
B) **◆** **+** **□** **●**
C) **□** **+** **●** **◆**
D) **□** **●** **◆** **+**



Matematik Soruları

1. Nusret, temmuz ayında tatil yapmak için otel rezervasyonu yapmayı planlamaktadır. Otelin uygun olduğu tarihler için aşağıdaki bilgiler veriliyor.

- Asal olmayan tarihler rezervasyon için uygundur.
- 15 ile aralarında asal tarihler rezervasyona uygundur.
- Birbirinden farklı 2 tane asal çarpana sahip tarihler rezervasyon için uygundur.



Yukarıdaki koşulları aynı anda sağlayan tarihler için rezervasyon yapılacaktır.

Temmuz						
Pt	Sa	Ça	Pe	Cu	Ct	Pz
		1	2	3	4	5
6	7	8	9	10	11	12
13	14	15	16	17	18	19
20	21	22	23	24	25	26
27	28	29	30	31		

Buna göre, Nusret kaç farklı gün için otel rezervasyonu yapabilir?

- A) 3
- B) 4
- C) 5
- D) 6

2. Hakan, eni $x-3$ br, boyu $2x+4$ br olmak üzere 12 tane özdeş dikdörtgen kartonla çeşitli şekiller yapmaktadır.



Hakan'ın yapmış olduğu geometrik şekil yanda gösterilmiştir.

Buna göre Hakan'ın yapmış olduğu şeklin arasında kalan boş kısmın alanını birimkare cinsinden gösteren cebirsel ifade aşağıdakilerden hangisidir?

- A) $12x^2+40$
B) $12x^2+48x-140$
C) $12x^2-140$
D) $12x^2+48x+148$

3. Mustafa, tablodaki sayılardan seçtiklerini çarparak 2048 sayısına ulaşmış ve seçtiği kareleri boyamıştır.

2	8	2^3
4^3	4^2	2^2
2^5	8	4^2

Mustafa'nın seçtiği kareler aşağıdakilerden hangisi olabilir?

A)

2	8	2^3
4^3	4^2	2^2
2^5	8	4^2

B)

2	8	2^3
4^3	4^2	2^2
2^5	8	4^2

C)

2	8	2^3
4^3	4^2	2^2
2^5	8	4^2

D)

2	8	2^3
4^3	4^2	2^2
2^5	8	4^2

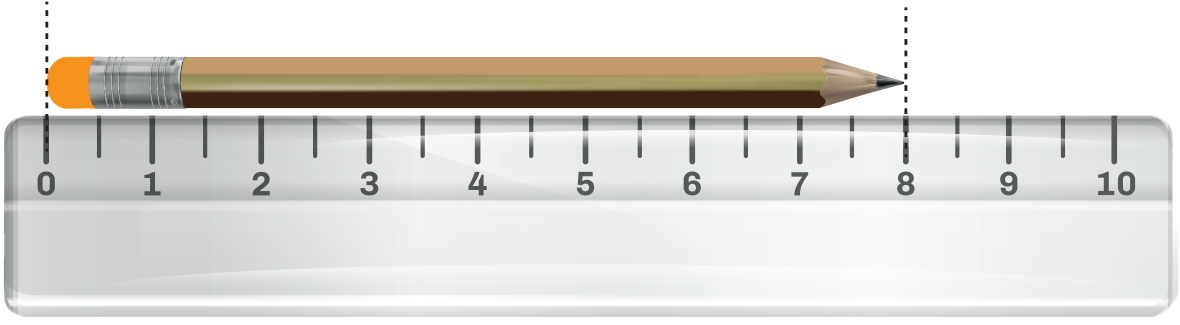
4. Bir ondalık gösterimin, basamak değerleri toplamı şeklinde yazılmasına ondalık gösterimin çözümlenmesi denir. Ondalık gösterim çözümlenmelerinde, 10 'un tam sayı kuvvetleri soldan sağa doğru azalarak devam etmektedir.

- I. $8 \cdot 10^2 + 2 \cdot 10^0 + 2 \cdot 10^{-1} + 2 \cdot 10^{-3}$
II. $8 \cdot 10^2 + 2 \cdot 10^1 + 2 \cdot 10^{-2} + 2 \cdot 10^{-3}$
III. $8 \cdot 10^2 + 2 \cdot 10^1 + 2 \cdot 10^{-1} \cdot 2 \cdot 10^{-2}$
IV. $8 \cdot 10^2 + 2 \cdot 10^0 + 2 \cdot 10^{-2} + 2 \cdot 10^{-3}$


Yukarıda verilen ifadelerden ondalık kısmı eşit olan ondalıklı sayıların toplamı kaçtır?

- A) 1640,242
B) 1622,224
C) 1622,044
D) 1604,224

5. Beyza matematik sınavına girmeden önce kaleminin boyunu cetvelde aşağıdaki gibi ölçüyor.



Beyza sınav sonunda küçülen kaleminin boyunu cetvelde aşağıdaki gibi ölçüyor.



Buna göre Beyza'nın kaleminin boyundaki azalma miktarı cm cinsinden aşağıdakilerden hangisi gibi olabilir?

- A) $\sqrt{8}$
- B) $\sqrt{10}$
- C) $\sqrt{14}$
- D) $\sqrt{18}$

6. a, b, c, d birer doğal sayı olmak üzere,

$$a\sqrt{b} \cdot c\sqrt{d} = a \cdot c \sqrt{b \cdot d}$$

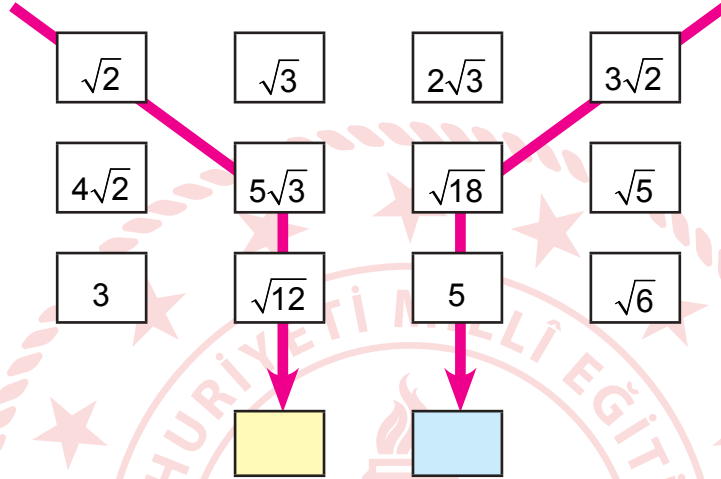
$$a\sqrt{b} = \sqrt{a^2 \cdot b}$$

$$\frac{a\sqrt{b}}{c\sqrt{d}} = \frac{a}{c} \sqrt{\frac{b}{d}}$$

$$c \neq 0$$

$$d \neq 0$$

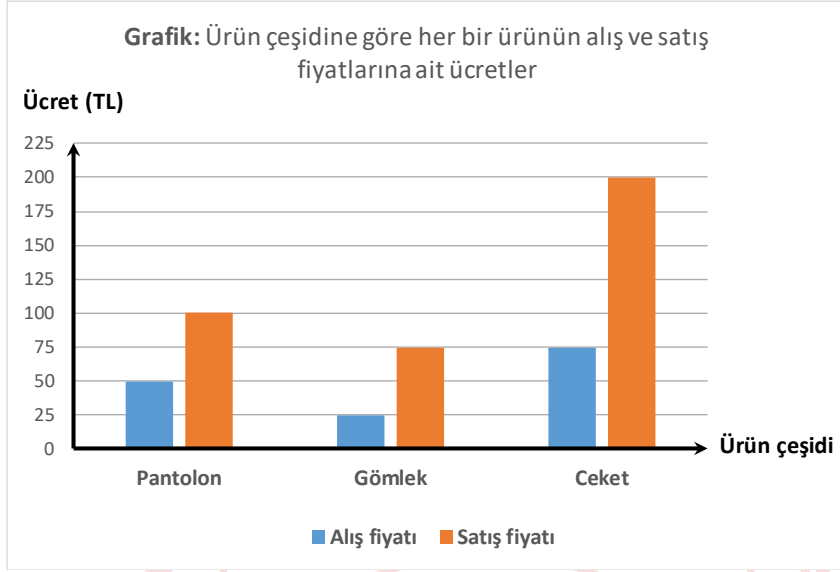
Aşağıdaki tabloda okların geçtiği köklü ifadeler birbiriyle çarpılarak aşağıdaki sarı ve mavi bölgelere sonuçlar yazılıyor.



Buna göre, sarı ve mavi bölgedeki ifadelerin birbirine oranı aşağıdakilerden hangisi olabilir?

- A) $\frac{\sqrt{2}}{3}$
- B) $\frac{\sqrt{3}}{2}$
- C) $\frac{2}{3}$
- D) $\frac{3}{2}$

7. Aşağıda bir mağazanın satmakta olduğu pantolon, gömlek ve ceket çeşitlerinden her bir ürün için alış ve satış fiyatlarına ait sütun grafiği verilmiştir.




Mağaza sahibi bir günlük satış için şunları söylemiştir:

- Her bir üründen en az bir tane satarak o gün için en az sayıda satış yaptığını
- Üç üründen de aynı karı elde ettiğini söylemiştir.

Satılan ürün adetleri bir daire grafiğinde gösterildiğinde satılan pantolon adedine ait merkez açı kaç derecedir?

- A) 60
B) 100
C) 120
D) 150

8. Aşağıdaki kutularda hangi renkten kaç adet kalem bulunduğu kalem sayısına göre küçükten büyüğe olacak şekilde sıralanmıştır.



Sarı ve yeşil renkteki kalemlerin toplamda 24 adet olduğu bilinmektedir.

Kutudaki kalemlerin tamamı bir torbada birleştirildiğinde bu torbadan rastgele çekilen bir kalemin sarı olma olasılığı hangisi olamaz?

- A) $\frac{3}{10}$
B) $\frac{3}{20}$
C) $\frac{1}{4}$
D) $\frac{1}{5}$



9. Aşağıdaki tabloda K, L, M, N gezegenlerinin güneşe olan yaklaşık uzaklıkları verilmiştir.

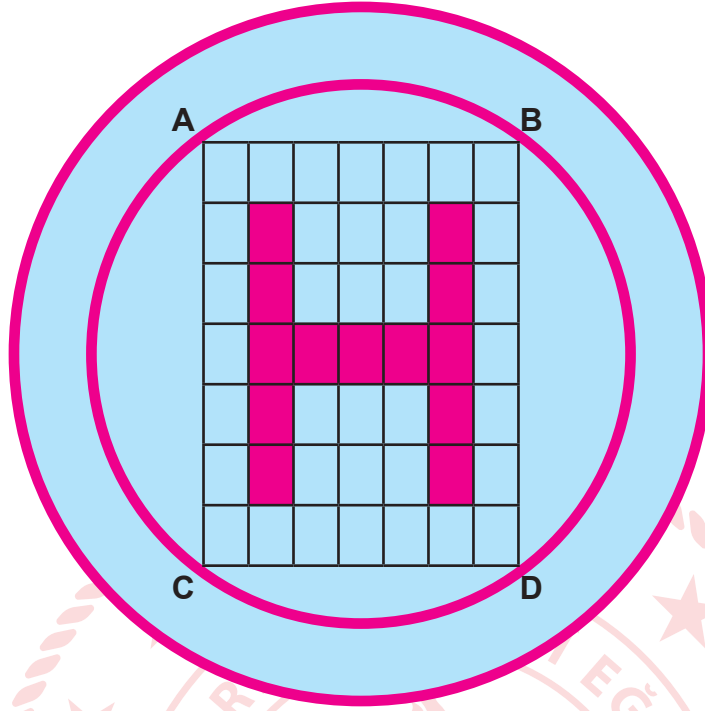
Tablo : Gezegenlerin Güneşe Uzaklığı

Gezegen Adı	Yaklaşık Uzaklığı (km)
K	$10,82 \cdot 10^7$
L	$0,1496 \cdot 10^9$
M	$2,279 \cdot 10^8$
N	$77,85 \cdot 10^7$

Buna göre, bu gezegenlerin güneşe olan uzaklıklarının bilimsel gösteriminin doğru verildiği gezegen hangisidir?

- A) K
B) L
C) M
D) N

10. Aşağıda çatısına helikopter iniş pisti yaptırmak isteyen bir hastanenin, yaptırmak istediği helikopter iniş pistinin görseli verilmiştir.



Hastane bu işi yaptırmak için bir firma ile anlaşmıştır. Bu işi yapacak firma bir kenar uzunluğu $\sqrt{392}$ m, diğer kenar uzunluğu $\sqrt{147}$ m olan dikdörtgen biçimindeki şekli özdeş dikdörtgenlere ayırmıştır. Bu özdeş dikdörtgenlerin bazılarını boya ile boyayarak H harfini oluşturmuştur.

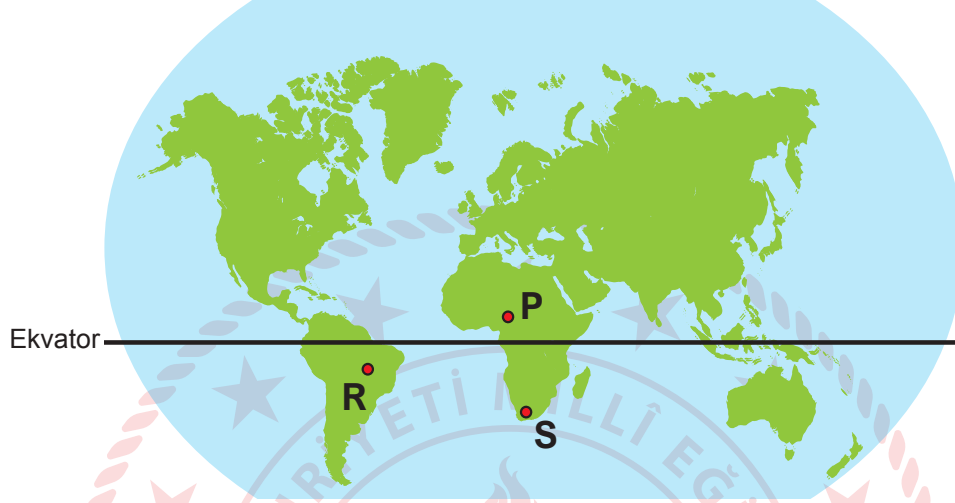
Teneke Boya	Boyayabileceği Alan(m ²)
A Markalı Boya	$\sqrt{24}$
B Markalı Boya	$\sqrt{54}$
C Markalı Boya	$\sqrt{96}$

H harfini boyamak için boya tenekelerinin her birinden en az 1 tane kullanıldığına göre, bu iş için en az kaç teneke boya kullanılmıştır? (Açılan boya tenekelerinin tamamının kullanılması şartı vardır.)

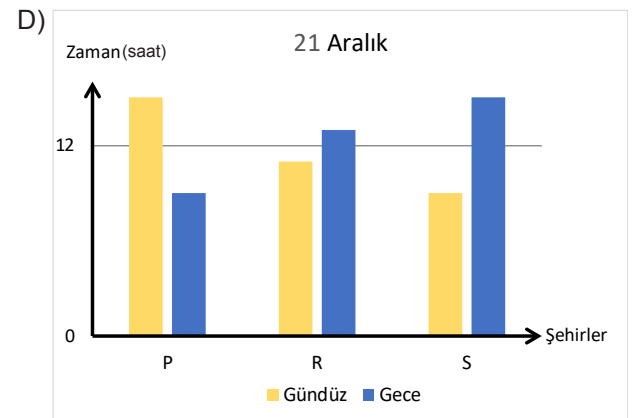
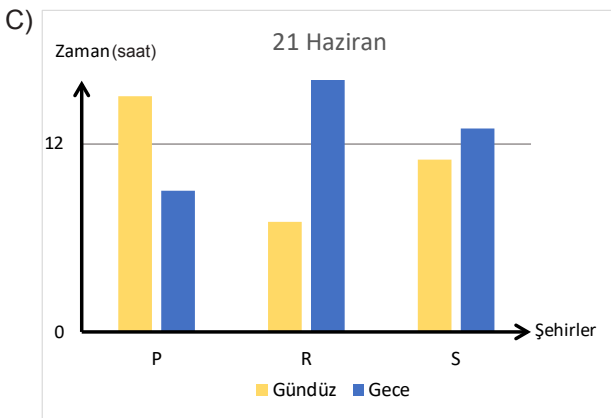
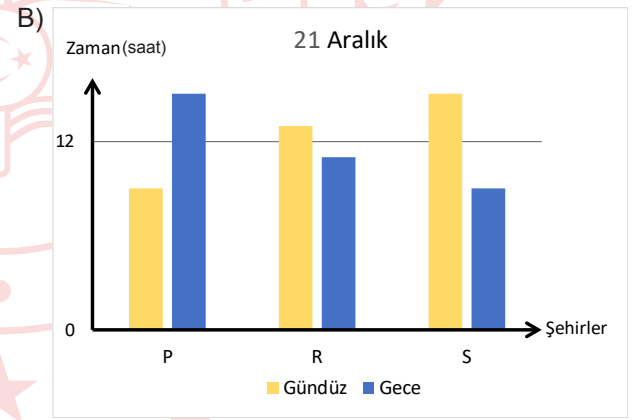
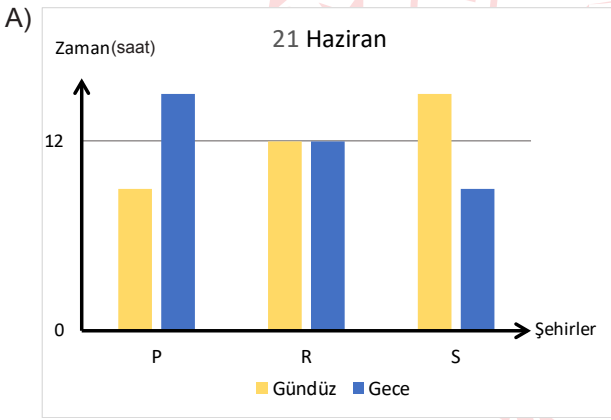
- A) 6
B) 7
C) 8
D) 9

Fen Bilimleri Soruları


1. Mevsimlere göre yarım kürelerde gece ve gündüz süreleri değişmektedir. Ekvatordan kutuplara doğru gidildikçe kış mevsiminin yaşandığı yarım kürede gece süresi artarken gündüz süresi azalmaktadır. Yaz mevsiminin yaşandığı yarım kürede ise gündüz süresi artarken gece süresi azalmaktadır.



Dünya üzerinde konumları verilen P, R ve S şehirlerinin 21 Haziran veya 21 Aralık tarihlerindeki gündüz ve gece süreleri, hangi grafikte doğru verilmiştir?



2. “Uçurtma Şenliği” etkinliğine katılmak isteyen öğrenci, hazırlamış olduğu uçurtmasını rüzgârlı bir günde denemektedir.

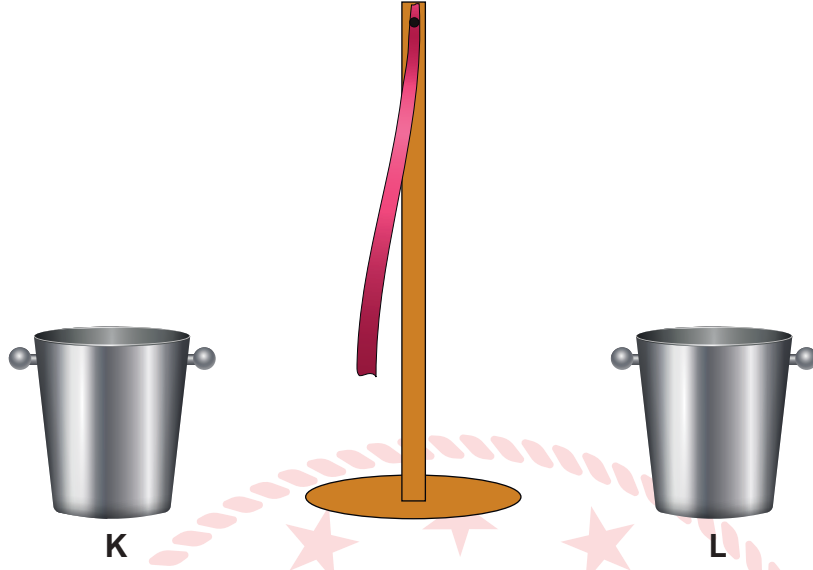


Buna göre aşağıdaki ifadelerden hangisi doğrudur?

- A) Doğu bölgesindeki açık hava basıncı, batı bölgesindekinden yüksektir.
- B) Rüzgar, doğu bölgesinden batı bölgesine esmektedir.
- C) Doğu bölgesindeki havanın yoğunluğu daha düşüktür.
- D) Batı bölgesi doğu bölgesine göre daha sıcaktır.



3. Ahmet, rüzgâr oluşumunun nasıl meydana geldiğini ve nedenlerini araştırmak için aşağıdaki deneyi tasarlar.



K ve L kaplarını sıcaklıkları farklı su ile doldurur. Ardından ince bir kurdeleyi kapların arasına asar. Kurdelenin bir süre sonra K kabına doğru hareket ettiğini gözlemler.

Ahmet'in deneyi için aşağıdaki çıkarımlardan hangisi yapılabilir?

- A) K kabındaki suyun sıcaklığı L kabındakinden düşüktür.
- B) L kabının bulunduğu ortam alçak basınç etkisindedir.
- C) L ortamındaki havanın yoğunluğu K ortamındakinden azdır.
- D) K ve L kaplarındaki suyun son sıcaklıkları dengelendiğinde kurdelenin hareketi durur.

4.

EGE ADALARINDAKİ KERTENKELELER

Ege adalarında yaşayan kertenkelelerin besin kıtlığından dolayı zaman zaman birbirlerini yedikleri görülmüştür. Bundan dolayı adalardaki kertenkeleler, anakarada yaşayan türlerine göre daha güçlü çene yapılarına sahiptirler.



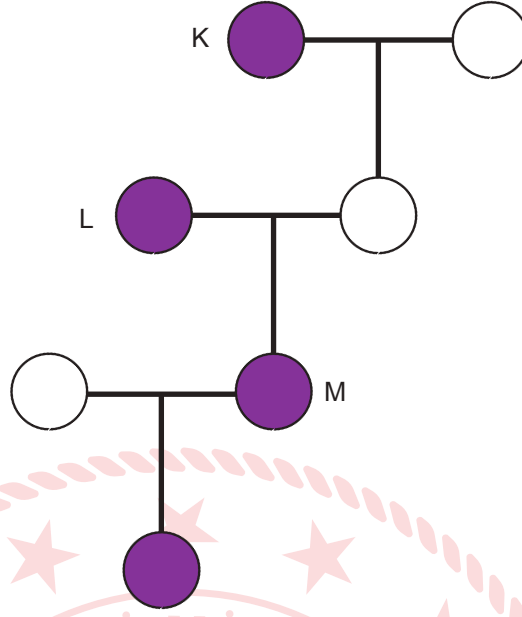
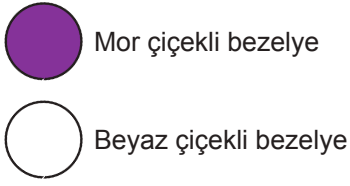
Belgesel kanalından alınan habere göre

- I. Adalardan anakaraya götürülen kertenkele yavrularının çene yapıları zayıf olur.
- II. Adalara düzenli olarak anakaradaki besinlerden bırakıldığı takdirde adalardaki yavruların çene yapıları, anakaradaki yavruların çene yapısından güçlü olur.
- III. Adalarda besin kıtlığı sürekli olarak artacak olursa ileriki nesillerde daha güçlü çene yapısına sahip kertenkeleler meydana gelir.

Yukarıdaki çıkarımlardan hangileri yapılamaz?

- A) I ve II
- B) II ve III
- C) I ve III
- D) I, II ve III

5. Aşağıdaki soy ağacında, bezelye bitkisinin mor ve beyaz çiçekli bireylerinin çaprazlanması gösterilmektedir.




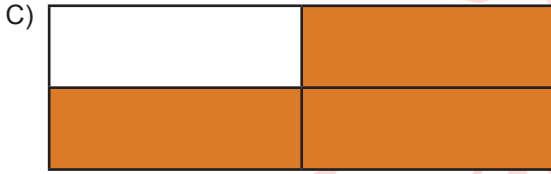
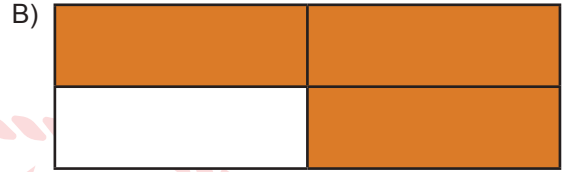
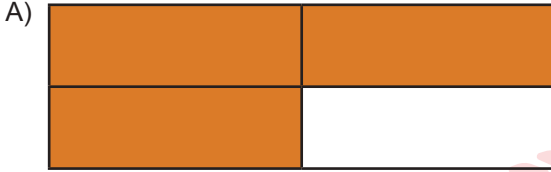
Soyağacında gösterilen K, L ve M bezelyelerinden hangileri kesinlikle heterozigottur?

- A) Yalnız K
- B) L ve M
- C) K ve M
- D) K, L ve M

7. Aşağıda bazı canlılar ve özellikleri verilmiştir.

Kutup ayısının ayak tabanlarının geniş ve kıllarının beyaz olması	Çöl develerinin uzun kirpikli olması
Kaktüslerin depo gövde ve dikensi yapraklara sahip olması	İstiridyelerin bulunduğu zemine göre farklı kabuk şekilleri kazanması

Canlıların buldukları çevreye, yaşamak ve üremek için gösterdikleri uyumlara örnek olabilecek kutular tanıdığına hangisi doğru olur?



6. Arazilerin geçilmesi imkânsız, su altında kalan zor yerlerinde ilerleyebilmek için tasarlanan bu makina, 100 metre uzunluğunda ve 4,6 m genişliğinde yollar döşeyerek geçişlere imkân sağlıyor. Bataklık arazilerde de işe yarayan makinenin tam olarak açılması 10 dakika sürüyor.



Askeri amaçlı olarak tasarlanmış bu kamyonun özellikleri, hangi seçenekte verilen örnekle benzerlik göstermez?

- A) Tanklarda palet kullanılması
- B) Tırların teker sayısının fazla olması
- C) Bıçakların kesici yüzeyinin bilenmesi
- D) Traktörlerin arka tekerlerinin geniş olması

8. Elementler periyodik tabloya artan atom numaralarına göre yerleştirilir. Elementlerin oda koşullarındaki fiziksel hâlleri tablo üzerinde farklı renklerle gösterilmiştir.



Buna göre aşağıdaki ifadelerden hangisi doğrudur?

- A) Tablodaki tüm periyotların ilk elementi katı hâldedir.
B) 7A grubunda tüm fiziksel hâllerden element bulunur.
C) Tabloda üç fiziksel hâlde element bulunduran periyot yoktur.
D) Tüm gruplarda fiziksel hâli bilinmeyen element bulunur.

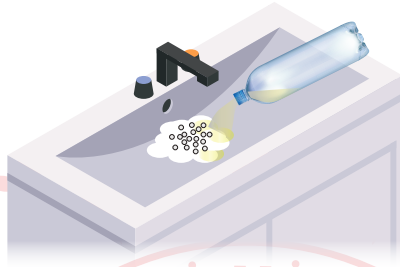
9. Yağ, kir ve atık maddeler yüzünden tıkanan lavabolar bir karışım hazırlanarak kolayca açılabilir. Bunun için kullanılacak malzemeler ve yapılması gerekenler sırasıyla aşağıda verilmiştir.

Malzemeler:

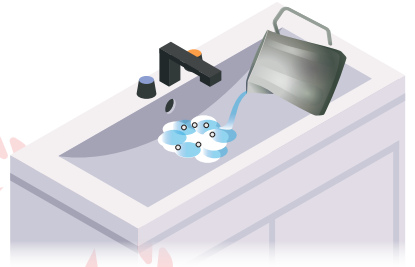
- 1 su bardağı elma sirkesi,
- 1 su bardağı karbonat,
- 1 su bardağı çamaşır sodası,
- 1 litre kadar kaynar su
- 1 adet lavabo pompası



AŞAMA 1
1 çorba kaşığı karbonat ve çamaşır sodası karıştırılıp lavabonun deliğine dökülür.



AŞAMA 2
Karışımın üzerine sirke boşaltılır ve karışımın köpürmeye başladığı görülür.

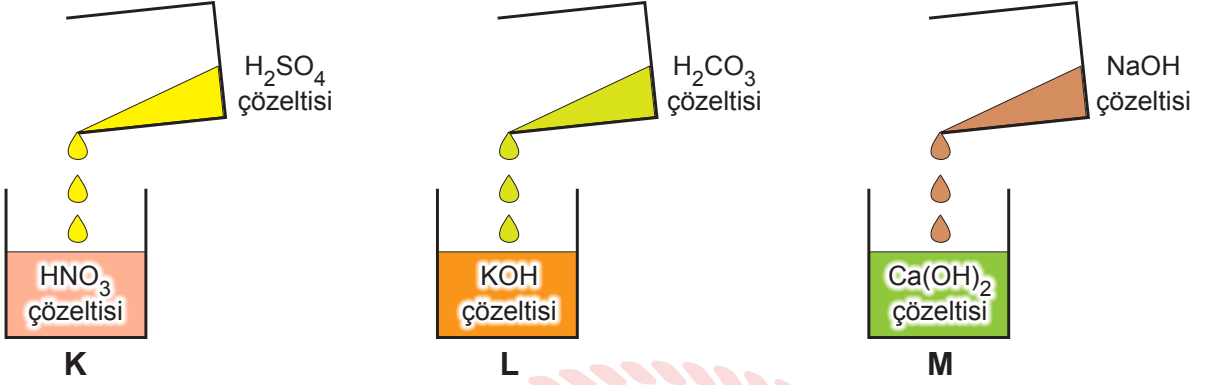


AŞAMA 3
Köpürme azalınca, dikkatli bir şekilde kaynar su boşaltılır ve ardından lavabo pompalanır.

Her bir aşamada meydana gelen değişimler, hangi seçenekte doğru olarak gruplandırılmıştır?

	Aşama 1	Aşama 2	Aşama 3
A)	Fiziksel	Kimyasal	Kimyasal
B)	Kimyasal	Kimyasal	Fiziksel
C)	Fiziksel	Kimyasal	Fiziksel
D)	Kimyasal	Fiziksel	Kimyasal


10. Helicobacter pylori (Helikobakter pilori) mideye yerleşerek gastrit ve ülser hastalığına neden olan bir bakteri türüdür. Fakat bu bakteri asidik ortama oldukça dayanaksızdır. Midede mukus tabakasının içerisine yerleşen bu bakteri, ürettiği enzim sayesinde üreyi amonyağa(NH_3) dönüştürerek kendini mide asidinden korur.



Bir öğrenci K, L ve M kaplarının içerisine sırasıyla H_2SO_4 , H_2CO_3 ve NaOH çözeltilerini yavaşça ekliyor.

Görselde verilenlerden hangileri bakterinin ürettiği amonyak ile mide asidi arasında gerçekleşen kimyasal tepkimeyle benzer özelliktedir?

- A) Yalnız K
- B) Yalnız L
- C) K ve M
- D) L ve M



T.C. İnkılap Tarihi ve Atatürkçülük Soruları

1. Mustafa Kemal ATATÜRK, Çanakkale savunmasında sevk ve idare yeteneğini ortaya koydu. Yeni Zelandalı tarihçi Alan Moorehead bu konuda: "Mustafa Kemal'in savaş güdümünde gösterdiği şaşırtıcı başarılar takımı bu tarihten sonra başladı. Ne, Liman Von Sanders'in, ne de başkasının göremediğini o gördü. Gelibolu Yarımadası'na ancak Conkbayırı ile Kocaçimen'den egemen olunabileceğini o anladı. Müttefik devletler burayı ele geçirselerdi, bütün Boğaz'a egemen olurlar ve 20 km'lik bir çevreyi istedikleri gibi top ateşine alabilirlerdi. Küçük rütbeli ama dâhi bir Türk subayının orada bulunması, İtilaf Devletleri için harbin en büyük talihsizliklerinden biri oldu." sözleri tarihe geçen kayıtlardan sadece biridir. (Celal ERİKAN, Komutan Atatürk)

Buna göre, Mustafa Kemal'in kişilik özelliklerinden

- I. Askeri dehası
- II. İleri görüşlülüğü
- III. Açık sözlülüğü
- IV. İdealistliği

hangilerine ulaşılabilir?

- A) I ve II
- B) I, II, IV
- C) III ve IV
- D) II, III, IV

2.

- İtilaf Devletleri, güvenliklerini tehdit edecek bir durumun ortaya çıkması hâlinde herhangi bir stratejik yeri işgal etme hakkına sahip olacaktır.
- Sınırların korunması ve iç asayişin temini dışında, Osmanlı ordusu derhâl terhis edilecektir.
- Vilayet-i Sitte adı verilen altı ilde (Erzurum, Van, Sivas, Bitlis, Elazığ, Diyarbakır) herhangi bir karışıklık çıkması durumunda İtilaf Devletleri, bu bölgeleri işgal edebilecektir.

Mondros Ateşkes Antlaşması'nın verilen maddelerine göre, hangisi söylenebilir?

- A) Osmanlı Devleti'nin hukuki varlığı bu anlaşma ile resmen son bulmuştur.
- B) Osmanlı Devleti üzerindeki planların uygulanması için ortam hazırlanmıştır.
- C) İtilaf Devletleri, Osmanlı'nın toprak bütünlüğünü korumak istemişlerdir.
- D) Osmanlı Devleti'nin askerî gücünden yararlanmak için düzenlenmiştir.

3.

Amasya Genelgesi (22 Haziran 1919)	Erzurum Kongresi (23 Temmuz - 7 Ağustos 1919)	Misak-ı Milli (28 Ocak 1920)
Milletin bağımsızlığını yine milletin azmi ve kararı kurtaracaktır.	Kuvayimilliyeyi tek kuvvet olarak ta- nımak ve millî iradeyi hâkim kılmak esastır.	Kars, Ardahan, Batum'da, Arap topraklarında ve Batı Trakya'da gerekirse referanduma gidilecektir.

Verilen bilgiler hangi kavram ile daha fazla ilgilidir?

- A) Tam bağımsızlık
B) Millî birlik ve beraberlik
C) Vatanın bütünlüğü
D) Ulusal irade



4. Mehmet Akif Ankara'ya geldikten sonra Tacettin Dergâhında kalmıştır. Burası edebi, fikri, tasavvufi sohbetlerin yapıldığı, cephelerdeki durumdan halkın bilgi almak için uğradığı bir mekândır. Akif İstiklal Marş'ını da bu mekânda yazmış ve yazarken adeta dünya ile ilişkisini kesmiştir. Kendisi gibi dergahta kalan Hafız Bekir Efendi şöyle anlatır:
"Üstat bir gece birden uyanır. Kâğıt arar; bulamayınca kalemiyle yatağının yanındaki duvara marşın "Ben ezelden beridir hür yaşadım hür yaşarım." diye başlayan kıtasını yazar. Ben sabah kalktığımda üstadı çakısıyla duvardaki yazısını kazırken gördüm."

On gün içerisinde tamamlanan şiir ve 17 Şubat 1921' de Sebilürreşad Dergisi'nin ilk sayfasında "Kahraman Ordumuza" ithaf edilerek yayınlanır. 12 Mart 1921'de meclis tarafından millî marş olarak kabul edilir. Farklı dillere çevrilerek, yurtiçinde ve yurtdışında dağıtılır. Mitinglerde, törenlerde halkın manevi ve millî duygularını güçlendirmek için okunur. Orduya ve halka büyük moral olur.


Verilen metinde İstiklal Marşımız ile ilgili hangi sorunun cevabı yer almaz?

- A) Nerede ve ne zaman yazılmıştır?
B) Kim için ve ne amaçla yazılmıştır?
C) İşgal kuvvetleri üzerinde nasıl bir etki yaratmıştır?
D) Halkımızın duygularına yansımaları nasıl olmuştur?



21 Mart Tarihli Resmi Gazete'nin ilk sayfasında yer alan İstiklal Marşı

5. Mustafa Kemal ATATÜRK' ün fikir hayatının oluşmasında etkili olan kişilerin başında Ziya GÖKALP gelmektedir. Ziya GÖKALP tek bir düşünce akımını benimsememiştir. Özellikle, milliyetçilik düşüncesi üzerine olan fikirleri Mustafa Kemal ATATÜRK' ü derinden etkilemiştir. Eserlerinde millî kültürün korunmasının ve ülkenin çağdaş medeniyetler seviyesine çıkarılmasının önemini vurgulamıştır



Ziya GÖKALP
(1876-1924)

Buna göre Ziya GÖKALP' in

- I. Türkçülük
- II. Osmanlıcılık
- III. Batıcılık
- IV. İslamcılık

fikir akımlarından hangilerini benimsemiş olduğu söylenebilir?

- A) I ve II
- B) I ve III
- C) II ve IV
- D) III ve IV

6. **Birinci Dünya Savaşı başladığında Osmanlı Devleti'nin kendisini korumak için aldığı önlemlerden hangisi, doğrudan ekonomik baskılardan kurtulmaya yöneliktir?**

- A) Tarafsızlığını ilan etmesi
- B) Boğazları ulaşıma kapatması
- C) Ülke genelinde seferberlik başlatması
- D) Kapitülasyonları kaldırdığını duyurması

7. 30 Ekim 1918 tarihinde imzalanan Mondros Ateşkes Antlaşması ile İstanbul Hükümeti teslimiyetçi bir politika izleyerek Anadolu halkını kendi kaderine teslim etmiştir. Antlaşma sonrası İtilaf güçleri vakit kaybetmeden işgallere başlamıştır. Halk içerisinde bazı gruplar bağımsızlık ve kurtuluş çareleri ararken, bazı gruplar ise ülkenin çıkarları aleyhine çalışmış ve manda yönetimine sürüklenmesi için çaba sarf etmişlerdir.

Verilen metinden yola çıkarak, Millî Cemiyetler ile ilgili hangisine ulaşamaz?

- A) Türk halkı, Anadolu'nun farklı bölgelerinde işgalcilere karşı direniş başlatmıştır.
- B) Ateşkesin hemen ardından başlayan saldırılara karşı topyekûn mücadele gerçekleşmiştir.
- C) Millî Cemiyetlere, İstanbul Hükümeti tarafından herhangi bir destek verilmemiştir.
- D) İtilaf Devletleri'nin yaptığı işgalleri önlemek amacı ile bölgesel örgütler kurulmuştur.

8. Yurt genelinde yapılan seçimlerin ardından toplanan Son Osmanlı Mebusan Meclisi, 12 Ocak 1920' de İstanbul'da toplanmıştır. Millî davaya inanan milletvekilleri "Felah-ı Vatan" adıyla bir grup kurmuştur. Mustafa Kemal'in belirlediği programlar doğrultusunda kabul edilen Misak-ı Millî kararlarından bazıları şunlardır:

- Mondros Ateşkes Antlaşması imzalandığında elde kalan Türk toprakları ayrılmaz bir bütündür.
- Millî ve ekonomik gelişmemizi engelleyen siyasî, adlî ve malî sınırlamalar kaldırılmalıdır.
- Azınlık hakları, komşu ülkelerdeki Müslüman halkın da aynı haklardan yararlanması koşuluyla kabul edilecektir.

Verilen maddeler ile aşağıdaki yorumları eşleştirirsek hangisi dışarıda kalır?

- A) Egemen ve bağımsız devlet anlayışı benimsenmiştir.
- B) Ulusal egemenlik büyük oranda hayata geçirilmiştir.
- C) Uluslararası eşitlik ilkelerine uygun hareket edilmiştir.
- D) Millî sınırların koruma altına alınması hedeflenmiştir.

9. Sakarya Zaferi'nin sonuçlarından bazıları şu şekildedir:

- I. TBMM tarafından, Mustafa Kemal ATATÜRK 'e "Gazilik" unvanı ve "Mareşallik" rütbesi verildi.
- II. Fransa, Ankara Antlaşması ile TBMM hükümetini ve Misak-ı Millîyi tanıyan ilk İtilaf Devleti oldu.
- III. İtalyan birlikleri, işgalden vazgeçerek Anadolu'dan tamamen çekildi.
- IV. Kafkas Cumhuriyetleri ile Kars Antlaşması imzalandı ve doğu sınırlarımız kesin olarak çizildi.

Verilen sonuçlardan hangileri, Sakarya Zaferi'nin uluslararası alandaki diplomatik sonuçlarına örnektir?

- A) I ve II
- B) I ve III
- C) II ve IV
- D) III ve IV

10. Büyük Taarruz Türk ordusunun zaferi ile sonuçlanınca, İtilaf Devletleri'nin çağrısı üzerine 11 Ekim 1922'de Mudanya Ateşkes Antlaşması imzalanmıştır. Ateşkesin önemli bazı maddeleri şunlardır:

- Anlaşma, üç gün içinde yürürlüğe girecek ve Türk-Yunan çarpışması sona erecektir.
- Yunanistan, Doğu Trakya'yı on beş gün içinde boşaltacak ve bu bölge İtilaf Devletleri vasıtasıyla otuz günlük süre içerisinde Türk ordusuna devredilecektir.
- TBMM'nin Doğu Trakya'daki askerî gücü barış antlaşması imzalanıncaya kadar sekiz bini geçmeyecektir.
- İstanbul, Boğazlar ve çevresi TBMM Hükûmetine bırakılacaktır.

Buna göre Mudanya Ateşkesi ile ilgili aşağıdakilerden hangisi söylenemez?

- A) Barış ortamı yasal olarak kesinleşinceye kadar bazı askerî sınırlamalar getirilmiştir.
- B) Millî Mücadele'nin silahlı aşaması sona ermiş, diplomasi aşaması başlamıştır.
- C) Yunanistan işgal etmiş bulunduğu bütün bölgelerden çekilmeyi kabul etmiştir.
- D) İstanbul ve Boğazların TBMM'ye teslim edilmesi ile Osmanlı Devleti yok sayılmıştır.

Din Kültürü ve Ahlak Bilgisi Soruları

1. "Takva sahipleri (sorumluluklarının bilincinde olanlar), bollukta da darlıkta da Allah için harcarlar. Öfkelerini yutarlar ve insanları affederler. Allah da güzel davranışta bulunanları sever."

(Al-i İmran Suresi 134.ayet)

Verilen ayetten aşağıdakisonuçların hangisi çıkarılmaz?

- A) Özdenetim sahibi bireyler olunması öğütlenmektedir.
B) İmkânı olduğu hâlde yardımlaşmayanlar cezalandırılacaktır.
C) İnsanın paylaşımında bulunması için zengin olmasına gerek yoktur.
D) Allah yararlı işlerle meşgul olanlardan razı olacaktır.

2. Hz Şuayb, Medyen ve Eyke kabilesini şu konularda uyarmıştır:

I. "Ey Kavmim! Bana karşı olan düşmanlığınız, Nûh kavminin veya Hûd kavminin yahut Salih kavminin başına gelenin benzeri gibi bir felaketi sakın sizin de başınıza getirmesin. (Ve unutmayın ki) Lût kavmi sizden uzak değildir. Rabbinizden bağışlanma dileyin, sonra ona tövbe edin. Şüphesiz Rabbim çok merhametlidir, çok severdir."

(Hûd suresi, 89-90)

II. "Ey kavmim ölçüyü ve tartıyı adaletle tam yapın. İnsanların eşyalarını (mallarını ve haklarını) eksiltmeyin. Yeryüzünde bozgunculuk yaparak karışıklık çıkarmayın. Eğer inanan kimselerseniz Allah'ın bıraktığı helâl kazanç sizin için daha hayırlıdır. Ben sizin başınızda bir bekçi değilim."

(Hûd suresi, 85-86)

III. "Tehdit ederek, inananları Allah yolundan alıkoyarak ve o yolu eğip bükme isteyerek öyle her yolun başında oturmayın..."

(Â'râf suresi, 86)

Buna göre hangisine ulaşamaz?

- A) Yapmış oldukları yanlışlardan döndükleri takdirde affedileceklerdir.
B) Dolandırıcılık gibi yanlış davranışlardan uzak durmalarını söylemiştir.
C) Medyen halkı da diğer yanlışa düşen kavimler gibi helak edilmiştir.
D) İnsanlar arasında karışıklık ve huzursuzluk çıkarmamalarını öğütlemiştir.

3. Bir zaman, yaşlı bir kadının biricik devesi uyuz oldu. Ölürse bütün işleri altüst olacak, başına, bahçesine giderken eşyasını yükleyecek vasıttan mahrum kalacaktı. Devesinin iyileşmesi için sürekli dua etti. Yine devesinin ot yemeyip, su içmediğini, iskelet hâline geldiğini görünce üzüntüsü bir kat daha arttı. Ellerini açmış dua ederken bir taraftan ağlıyordu. Bu sırada Peygamberimiz, ashabıyla birlikte oradan geçmekteydi. Yaşlı kadının ağladığını görünce sordu:

-“Ey Allah’ın kulu, niçin gözyaşı döküp ağlıyorsun?”

Kadın titrek sesle cevap verdi:

- Devem için ağlıyorum. O benim her şeyim. Ya ölürse halim ne olur? Hastalıktan kurtarması için Rabbime günlerdir el açıp dua ediyorum, fakat bir türlü kabul edilmiyor.”

Tebessüm eden Peygamberimiz şöyle cevap verdi:

- “Kabul olmasını istiyorsan duana biraz da katran kat.”

Ne demekti duasına katran katmak? Nihayet anlar gibi oldu. Komşularından katran bulan kadın, devesine önce iyice bir katran sürdü. Sonra da ellerini açıp duaya başladı. Uyuz yaralarındaki mikroplar tümüyle öldü, böylece deve uyuzdan kurtulmuş oldu.

Verilen metinde hangisine vurgu yapılmıştır?

- A) İrade
- B) Tevekkül
- C) Kader
- D) Ecel

4. Rabia Öğretmen, öğrencilerinden evrensel yasalar (sünnetullah) ile ilgili örnekler vermelerini istemiştir. Öğrencilerin verdiği örnekler şu şekildedir:

Rüveyda: Balıklar diğer hayvanlardan farklı olarak solungaçları ile solunum yaparlar.

Fatoş: Kurbağalar dış döllenme yolu ile çoğalırlar.

Elif: Isınan yeryüzündeki sular buharlaşarak gökyüzüne doğru yükselir.

Ayşenur: Embriyo bir canlının ilk halidir.

Hangi öğrencinin verdiği örnek, konusu bakımından diğerlerinden farklıdır?

- A) Fatoş
- B) Elif
- C) Ayşenur
- D) Rüveyda

5. Hz. Musa ve Hz. Harun, Firavun 'un iman etmesi için çok çaba sarf ettiler. Ancak Firavun küfürde ısrar ederek insanlara karşı zulmünü artırdı. Bunun üzerine Hz. Musa kavmini toplayarak Filistin'e doğru yola çıktı. Firavun bu durumu fark edince ordusuyla beraber Hz. Musa ve İsrailoğullarını takip etmeye başladı. İsrailoğulları Firavun ve ordusunu görünce korkmaya başladılar. Çünkü önlerinde deniz arkalarında ise gaddar bir kral ile ordusu vardı. İsrailoğulları: "Yakalandık ey Musa!" diye sızlanmaya başladılar.

Bu olayın devamı ayette şöyle geçmektedir:

"Musa: "Asla! dedi. Rabbim şüphesiz benimledir, bana yol gösterecektir." dedi. Bunun üzerine Musa'ya, "Asan ile denize vur!" diye vahyettik. Deniz derhal yarıldı, her parça koca bir dağ gibi oldu. Ötekilerini de oraya getirdik. Mûsâ'yı ve beraberindekilerin hepsini kurtardık... Firavun ise ordusuyla birlikte onların peşine düştü ve hepsi denizde boğulup gitti."

(Şuara suresi, 61-65. ayetler)

Verilen metine göre aşağıdaki yargılardan hangisine ulaşamaz?

- A) Sabretmenin sonucunda muhakkak ki mükâfat vardır.
B) Doğru yoldan ayrılmayanlar Yaraticının desteğini alır.
C) Her koşulda ve her zaman Allah'a güvenmek gerekir.
D) Ölüm korkusuyla da olsa iman etmekle kişi kurtuluşa erişir.

6. İslam dini insana yaşamını en güzel şekilde devam ettirebilmesi için çeşitli hak ve yetkiler vermiştir. Temel hak olarak ifade edilen bu haklar dokunulamaz, devredilemez ve vazgeçilemez haklardır.

Aşağıdakilerden hangisi bu haklar arasında yer almaz?

- A) Canın korunması
B) Malın korunması
C) Neslin korunması
D) Tabiatın korunması

7. Çevremize baktığımızda insanların farklı zenginlik seviyesine sahip olduğunu görürüz. Günlük yaşamda kendi ihtiyaçlarını karşılamakta zorluk çeken birçok insan karşımıza çıkar. Yaşlılık, hastalık, engelli olma gibi durumlar bunlardan bazılarıdır. Deprem, sel, yangın ve benzeri afetlerde, insanların yıllar boyu emek vererek kazandıkları şeyler yok olabilir. Böyle durumlarda insanların birbirine yardım etmeleri kaçınılmaz hale gelir.

Aşağıdakilerden hangisi yardımlaşma ile ilgili ayet ve hadislerinden biri değildir?

- A) "Kim helal kazancından bir hurma miktarı sadaka verirse -ki Allah sadece helâl olanı kabul eder. Allah o sadakayı büyük bir hoşnutlukla kabul eder. Sonra onu sahibi için, sizden birinizin tayını yetiştirdiği gibi (özenle) dağ gibi olana kadar büyütür (berekletendirir). (Hadis-i Şerif)
- B) "Allah için size sığınan kimseye sığınak olun. Allah için isteyen kimseye verin. Sizi davet edene icabet edin, size bir iyilik yapana karşılığını verin. Eğer onun karşılığını verecek bir şey bulamazsanız, karşılıklıta bulunduğunuzu kanaat getirinceye kadar ona dua edin." (Hadis-i Şerif)
- C) "Kendilerini Allah yolunda adayan fakirler içindir ki, onlar, yeryüzünde dolaşmaya güç yetiremezler. İffetlerinden dolayı bilmeyen onları zengin sanır. (Ama) Sen onları yüzlerinden tanırsın. Yüzsüzlük ederek insanlardan istemezler. Hayırdan her ne infak ederseniz, şüphesiz Allah onu bilir." (Bakara 273)
- D) "Karşılaştığınızda, birbirinizin yanına geldiğinizde, Musafaha yapınız ki, (tokalaşınız ki) kalplerinizden, kin, haset ve düşmanlık duyguları yok olsun, birbirinizi affediniz ki kin, haset ve düşmanlık duyguları yok olsun," dedi. (Hadis-i Şerif)

8. "Allah'tan başka hiçbir ilah yoktur. O daima diridir, bütün varlığın idaresini yürütendir. Onu ne uyuklama tutar ne de uyku. Göklerde ve yerde ne varsa hepsi O'nundur. İzni olmadan huzurunda şefaah edecek olan kimdir? O, kullarının önlerinde ve arkalarında ne varsa hepsini bilir. Onlar ise onun dilediği kadarından başka ilminden hiçbir şey kavrayamazlar. Onun sonsuz kudreti, gökleri ve yeri kaplar. Onları görüp gözetmek ona ağır gelmez. Gerçekten yüce ve büyük olan yalnızca O'dur." (Bakara suresi, 255. ayet)

Yukarıda anlamı verilen ayet ile ilgili;

- I. Tevhid inancını anlatır.
- II. İslam inanç esaslarının tamamını anlatır.
- III. Allah'ı insanlara tanıtan eşsiz bir açıklamadır.


yargılarından hangileri söylenebilir?

- A) I ve II
B) I ve III
C) II ve III
D) I, II ve III

9. Bir okulda temizlik görevlisi olarak çalışan Beyza Hanım, "Kefenin cebi yok." diyerek 2500 TL maaşının 500 TL'sini ihtiyaç sahibi öğrencilere ayırdı. Yardımsever Beyza Hanım, "Küçükken çok zorluklar çektim. Durumum oldukça böyle davranmaya devam edeceğim." dedi.

Bu olay aşağıdaki ayetlerden hangisinin yansıması olduğu söylenebilir?

- A) "Onlar bollukta da darlıkta da Allah yolunda harcarlar, öfkelerini yenerler, insanları affederler. Allah işini güzel yapanları sever."
(Â-i İmrân suresi, 134. Ayet)
- B) "Allah, geceyi gündüzün içine sokar, gündüzü de gecenin içine sokar. Güneş'i ve Ay'ı da koyduğu kanunlara boyun eğdirmiştir. Her biri, belirlenmiş bir süreye kadar hareketlerini sürdürürler. İşte bu, Allah'tır, Rabbinizdir. Mülk yalnızca O'nundur. Allah'ı bırakıp da ibadet ettikleriniz, bir çekirdek zarına bile hükmedemezler."
(Fâtır suresi, 13. Ayet)
- C) "De ki: 'Ey mülkün sahibi olan Allah'ım! Sen mülkü dilediğine verirsin. Dilediğinden de mülkü çeker alırsın. Dilediğini aziz edersin, dilediğini zelil edersin. Hayır, senin elindedir. Şüphesiz sen her şeye hakkıyla gücü yetensin."
(Â-i İmrân suresi, 26. Ayet)
- D) "Hep birlikte Allah'ın ipine (Kur'an'a) sınımsız sarılın. Parçalanıp bölünmeyin. Allah'ın size olan nimetini hatırlayın. Hani sizler birbirinize düşmanlar idiniz de O, kalplerinizi birleştirmişti. İşte O'nun bu nimeti sayesinde kardeşler olmuştunuz..."
(Â-i İmrân suresi, 103. ayet)



10. • Varlığı devamlı olan, hayat sahibi, ölmeyen diri
• İzzet, şeref ve hükümdarlık bakımından en yüce, aşkın olan
• Yarattıklarına maddi ve manevi her türlü rızkı bol bol veren

Seçeneklerdeki Allah'ın isimlerinden hangisinin anlamı yukarıda verilmemiştir?

- A) er-Rezzak
B) el-Azim
C) el-Kayyum
D) el-Hayy

11. Kaza ve kader inancı İslam dininin en temel inançları arasında yer almaktadır.

Kader: Ezeli zamandan ebediyete kadar olmuş ve olacak olan şeylerin zamanı, yeri ve nasıl olacağını Allah'ın takdir etmesidir.

Kaza: Allah'ın önceden bilip takdir ettiği her şeyin zamanı geldiğinde meydana çıkarılmasıdır.

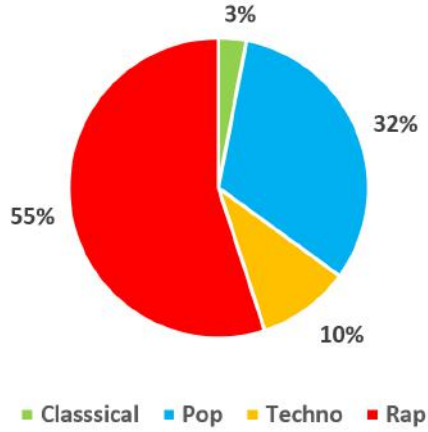
Buna göre aşağıdaki seçeneklerden hangisi kaza olarak değerlendirilebilir?

- A) Havaya bakılırsa yağmur yağacak.
- B) Bu gidişle korona virüs yayılacak.
- C) Dün sokağa çıkma yasağı ilan edildi.
- D) Karantina günlerinde evden çıkmayacağız.



İngilizce Soruları

1. A journalist conducted a survey about what kind of music teenagers like. Here is the result of the survey:



Which of the following is **CORRECT** according to the survey results?

- A) Teenagers find pop music unbearable.
B) Pop and classical music lovers are nearly the same.
C) Techno is the least favourite music type among teenagers.
D) More teenagers are into rap music than any other type of music.

2.

HOW TO SEND AN E-MAIL

When you want to send an e-mail, there are some steps you must follow. First of all, you need to open your Internet browser and connect to your e-mail provider. After that, log in to your e-mail account by writing your e-mail address and password. When you reach your account, click on compose or new e-mail. A new blank e-mail window will open up. Next, you must write the e-mail address of the recipient in the blank. You can write the topic of the e-mail in the subject part, but you do not have to do it. Then, you can start writing your e-mail. When you finish writing, you can attach a file, document or a picture if you want. Finally, you can click on send button to send the e-mail.



Which of the following is **CORRECT** according to the text above?

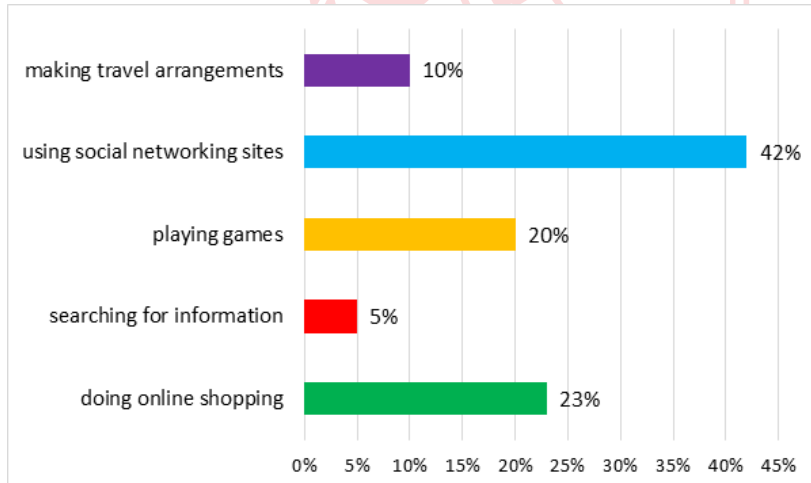
- A) You must log out before you send an e-mail.
B) If you want to send an e-mail, you have to write the subject of the e-mail.
C) Attaching a file, document or a picture is the final step of writing an e-mail.
D) Typing the e-mail address of the recipient is a step before sending the e-mail.

3. **Alex** : Hey! Where are you going?
Claire : It is sports time so I am going to the club.
Alex :?
Claire : I usually play tennis in the tennis club.
Alex :?
Claire : I like being fit and healthy.
Alex :?
Claire : Well. Doing karate maybe. I think it is a great activity.

Which of the following DOES NOT Alex ask Claire?

- A) Why do you do it
 B) How often do you do it
 C) What sports do you do regularly
 D) What sports would you like to try

4. A newspaper did a survey related to the Internet habits of people in London. They asked 100 people why they used the Internet. Here is the result:



Which of the following is NOT CORRECT according to the chart?

- A) People in the survey are not very interested in social network sites.
 B) The number of the people using the Internet to find out things is the least one.
 C) Buying something on the Internet is the second popular thing among the people in the survey.
 D) The number of people keeping in touch with their friends on the Internet is more than people making travel plans.

6.



New Airlines. How can I help you?

This is Mike. Can I speak to Mr. Parker, please?

.....

OK. Thank you very much.



Which of the following **DOES NOT** complete the conversation?

- A) I will put you through.
- B) I will call back later.
- C) Could you hang on?
- D) I will connect you now.

5.

EASY PANCAKE RECIPE



- 1 cup of milk
- 1 tablespoon butter
- ½ cup of flour
- ½ teaspoon salt
- 1 teaspoon vanilla
- 2 large eggs
- 2 tablespoons sugar
- 2 teaspoons baking powder

- ▶ Put the eggs, vanilla, baking powder, salt, sugar and milk in a large bowl and mix them slowly.
- ▶ Add the flour to the mixture and mix it for three minutes.
- ▶ Put the butter in a large pan and heat it over medium heat.
- ▶ Cook both side of pancakes for 2-3 minutes.
- ▶ Serve them with honey.
- ▶ Enjoy it.

Which of the following is **CORRECT** according to the recipe?

- A) Frying is the cooking method to cook pancakes.
- B) You need more than two eggs for pancakes.
- C) Honey is a necessary ingredient to cook pancakes.
- D) You should use some chocolate chips to prepare pancakes.

7. **Alice** : Would you like to come to my birthday party on Saturday?
Tom :
Alice : That's great. If she wants, your sister can join us, too.

Which of the following completes the conversation?

- A) I have plans on weekend.
B) I don't like drinking lemonade.
C) A birthday party! Yes, I'd love to.
D) Sorry, I have an exam tomorrow.

8. **Kate** : Hi, my friends! I have a birthday party at Flower Cafe at 4 pm next Saturday.
Why don't you come and join the party? I am sure we will have lots of fun.

Lily : Why not? I'd love to come.

Sally : Really? I'd love to, but I can't. I am going to help my mother to clean the house then.

Mary : OK. It sounds awesome.

Rose : A birthday party? Sure, that would be great.

According to the conversation above, who makes an excuse for not going to the party?

- A) Lily
B) Sally
C) Mary
D) Rose

9. **Waiter** : Hello. May I take your order, please?

Customer :

Which of the following completes the conversation?

- A) The bill, please
B) You're welcome
C) I don't want to drink water
D) Yes. I would like lentil soup, please